

# ΧΗΜΕΙΑ - ΒΙΟΧΗΜΕΙΑ

## ΤΕΧΝΟΛΟΓΙΚΗΣ ΚΑΤΕΥΘΥΝΣΗΣ

(ΚΥΚΛΟΣ ΤΕΧΝΟΛΟΓΙΑΣ ΚΑΙ ΠΑΡΑΓΩΓΗΣ)

24 ΜΑΪΟΥ 2013

ΕΚΦΩΝΗΣΕΙΣ

### ΘΕΜΑ Α

Στις ερωτήσεις A1 και A2 να γράψετε στο τετράδιό σας τον αριθμό της ερώτησης και δίπλα το γράμμα που αντιστοιχεί στη σωστή απάντηση.

A1. Από τα παρακάτω ρυθμιστικά διαλύματα, περισσότερο όξινο είναι το:

- α)  $\text{NH}_3$  0,1 M –  $\text{NH}_4\text{Cl}$  0,2 M
- β)  $\text{NH}_3$  0,1 M –  $\text{NH}_4\text{Cl}$  0,1 M
- γ)  $\text{NH}_3$  0,2 M –  $\text{NH}_4\text{Cl}$  0,1 M
- δ)  $\text{NH}_3$  0,2 M –  $\text{NH}_4\text{Cl}$  0,2 M

Μονάδες 3

A2. Κατά την αραιώση υδατικού διαλύματος  $\text{CH}_3\text{COONa}$  με  $\text{H}_2\text{O}$ , ελαττώνεται:

- α) ο αριθμός mol  $\text{OH}^-$
- β) η  $[\text{H}_3\text{O}^+]$
- γ) το pH
- δ) ο αριθμός mol  $\text{Na}^+$

Μονάδες 3

A3. Να χαρακτηρίσετε τις προτάσεις που ακολουθούν, γράφοντας στο τετράδιό σας, δίπλα στο γράμμα που αντιστοιχεί σε κάθε πρόταση, τη λέξη **Σωστό**, αν η πρόταση είναι σωστή, ή τη λέξη **Λάθος**, αν η πρόταση είναι λανθασμένη.

- α) Το pH υδατικού διαλύματος NaF 0,1 M είναι μεγαλύτερο από το pH υδατικού διαλύματος NaCl 0,1 M.
- β) Αν αναμειξουμε ίσους όγκους διαλυμάτων NaOH με pH = 10 και pH = 12 αντίστοιχα, προκύπτει διάλυμα με pH = 11.

(Μονάδες 2)

Να αιτιολογήσετε όλες τις απαντήσεις σας.

(Μονάδες 4)

Μονάδες 6

A4. Για την ογκομέτρηση οξέος με βάση (αλκαλιμετρία) γίνεται χρήση της διπλανής διάταξης:

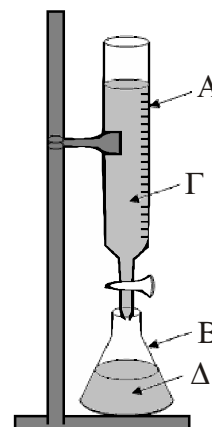
- α) Να ονομαστούν τα γυάλινα σκεύη A και B.

(Μονάδες 2)

- β) Ποιο από τα διαλύματα Γ και Δ είναι το πρότυπο και ποιο το ογκομετρούμενο;

(Μονάδα 1)

Μονάδες 3



- A5. α)** Κορεσμένη μονοσθενής αλκοόλη (A) κατά την οξείδωσή της με διάλυμα  $\text{KMnO}_4 / \text{H}_2\text{SO}_4$  δίνει οργανική ένωση B, ενώ με αφυδάτωσή της δίνει ένωση Γ. Η ένωση Γ με προσθήκη  $\text{H}_2\text{O}$  σε όξινο περιβάλλον δίνει ως κύριο προϊόν την ένωση Δ. Κατά την αντίδραση των ενώσεων B και Δ παίρνουμε την οργανική ένωση E, ενώ κατά την αντίδραση των ενώσεων A και B παίρνουμε την οργανική ένωση Z.  
Οι ενώσεις E και Z έχουν μοριακό τύπο  $\text{C}_6\text{H}_{12}\text{O}_2$ .  
Να γραφούν οι συντακτικοί τύποι των ενώσεων A, B, Γ, Δ, E, Z. (Μονάδες 6)
- β)** Να γραφεί η χημική εξίσωση της αντίδρασης οξείδωσης της 2-βουτανόλης με διάλυμα  $\text{KMnO}_4 / \text{H}_2\text{SO}_4$ . (Μονάδες 2)
- γ)** Να προτείνετε δύο τρόπους πειραματικής διάκρισης της 2-προπανόλης από το προπανικό οξύ (να μη γραφούν χημικές εξισώσεις). (Μονάδες 2)
- Μονάδες 10**

## ΘΕΜΑ Β

Διαθέτουμε τα παρακάτω υδατικά διαλύματα:

- Διάλυμα Δ<sub>1</sub>:  $\text{CH}_3\text{COOH}$  0,1 M ( $K_a = 10^{-5}$ )
- Διάλυμα Δ<sub>2</sub>:  $\text{HCl}$  0,2 M
- Διάλυμα Δ<sub>3</sub>:  $\text{CH}_3\text{COONa}$  0,4 M
- Διάλυμα Δ<sub>4</sub>:  $\text{NaOH}$  0,0375 M

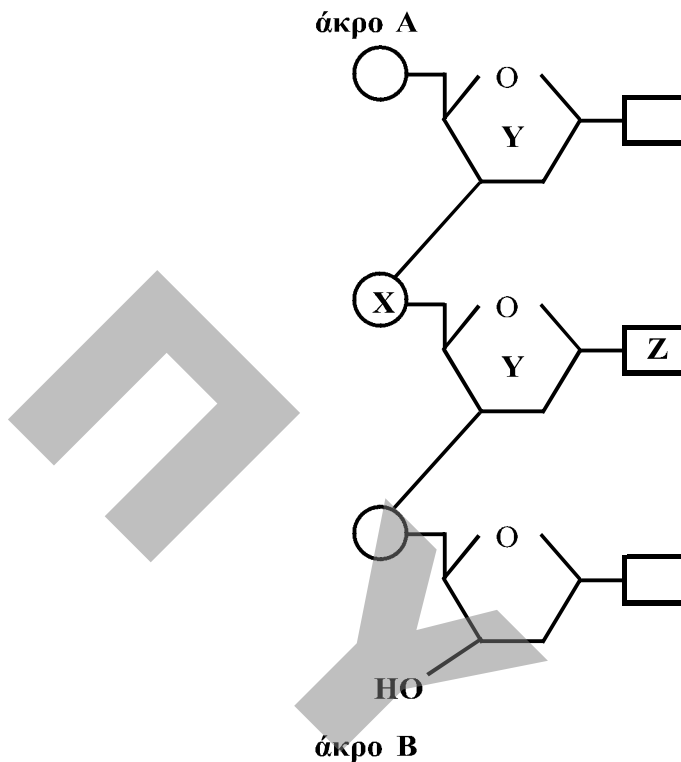
- B1.** Να υπολογιστεί το  $pH$  του διαλύματος Δ<sub>1</sub> (Μονάδες 3) και ο βαθμός ιοντισμού του  $\text{CH}_3\text{COOH}$  (Μονάδα 1). (Μονάδες 4)
- B2.** Διάλυμα Δ<sub>5</sub> προκύπτει με ανάμειξη 500 mL διαλύματος Δ<sub>1</sub> και 500 mL διαλύματος Δ<sub>2</sub>. Να υπολογιστεί το  $pH$  του διαλύματος Δ<sub>5</sub> (Μονάδες 4) και ο βαθμός ιοντισμού του  $\text{CH}_3\text{COOH}$  (Μονάδες 2). (Μονάδες 6)
- B3.** Σε 500 mL διαλύματος Δ<sub>3</sub> προσθέτουμε 500 mL διαλύματος Δ<sub>2</sub>. Να υπολογιστεί το  $pH$  του διαλύματος που προκύπτει. (Μονάδες 7)
- B4.** Στο διάλυμα Δ<sub>5</sub> προστίθενται 4 L διαλύματος Δ<sub>4</sub> και προκύπτει το διάλυμα Δ<sub>6</sub>. Να υπολογιστεί το  $pH$  του διαλύματος Δ<sub>6</sub>. (Μονάδες 8)

Δίνεται ότι:

- Όλα τα διαλύματα βρίσκονται σε θερμοκρασία 25 °C.
- $K_w = 10^{-14}$
- Τα δεδομένα του προβλήματος επιτρέπουν να γίνουν οι γνωστές προσεγγίσεις.

## ΘΕΜΑ Γ

Γ1. Δίνεται τμήμα νουκλεοτιδικής αλυσίδας DNA που αποτελείται από τρία νουκλεοτίδια:



- α) Να γράψετε τα ονόματα των τμημάτων X, Y, Z καθώς και το όνομα του δεσμού μεταξύ των τμημάτων Y - X - Y. (Μονάδες 4)
- β) Να αντιστοιχίσετε τα άκρα A και B με τα άκρα 5' και 3' της νουκλεοτιδικής αλυσίδας. (Μονάδα 1)
- Μονάδες 5**

Γ2. Να γράψετε στο τετράδιό σας το γράμμα που αντιστοιχεί στη σωστή απάντηση.

- α) Η καλσιτονίνη αυξάνει την περιεκτικότητα του πλάσματος σε ασβέστιο.  
β) Η καζεΐνη έχει ως ρόλο την αποθήκευση ασβεστίου.  
γ) Η λακτόζη παρεμποδίζει την απορρόφηση ασβεστίου.  
δ) Τα ιόντα ασβεστίου δεν ρυθμίζουν τη μυϊκή συστολή.

**Μονάδες 4**

Γ3. Να χαρακτηρίσετε τις προτάσεις που ακολουθούν, γράφοντας στο τετράδιο σας, δίπλα στο γράμμα που αντιστοιχεί σε κάθε πρόταση, τη λέξη **Σωστό**, αν η πρόταση είναι σωστή, ή τη λέξη **Λάθος**, αν η πρόταση είναι λανθασμένη.

- α) Κατά την αλκοολική ζύμωση συμβαίνει επανοξείδωση του NADH σε NAD<sup>+</sup>.  
β) Στον αναβολισμό συμβαίνει διάσπαση βιομορίων σε απλούστερες ενώσεις.  
γ) Τα αμινοξέα και οι πρωτεΐνες παρουσιάζουν αμφολυτικό χαρακτήρα.  
δ) Τα τελικά προϊόντα του αερόβιου μεταβολισμού είναι CO<sub>2</sub> και H<sub>2</sub>O.

**Μονάδες 8**

- Γ4.** Να γράψετε στο τετράδιό σας τα γράμματα της Στήλης I και, δίπλα σε κάθε γράμμα, έναν από τους αριθμούς της Στήλης II, ώστε να προκύπτει η σωστή αντιστοίχιση. (Ένα στοιχείο της Στήλης II περισσεύει).

ΣΤΗΛΗ I	ΣΤΗΛΗ II
α. Ενδοκρινείς αδένες	1. στήριξη
β. Αίμα	2. παραγωγή ορμονών
γ. Νευρικό σύστημα	3. απέκκριση
δ. Νεφροί	4. μέσο μεταφοράς
	5. αποδοχή και μεταβίβαση ερεθισμάτων

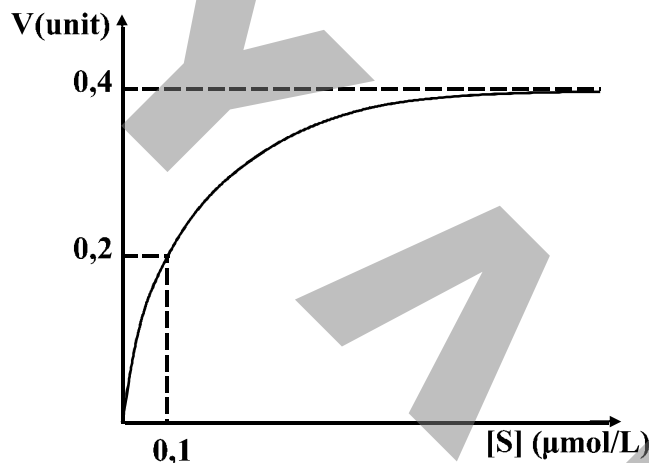
**Μονάδες 8**

### ΘΕΜΑ Δ

- Δ1.** Διαθέτουμε τα ένζυμα  $E_1$  και  $E_2$  που καταλύουν τη βιοχημική αντίδραση



- α)** Από μελέτη της κινητικής συμπεριφοράς του ενζύμου  $E_1$  στην παραπάνω αντίδραση προκύπτει το διάγραμμα ταχύτητας/συγκέντρωσης υποστρώματος:



Για το ένζυμο  $E_1$ , ποια είναι η τιμή της  $K_{m1}$ ;

(Μονάδες 2)

- β)** Από πειραματικές μετρήσεις που έγιναν με το ένζυμο  $E_2$  στις ίδιες συνθήκες και για την ίδια αντίδραση, προέκυψαν τα παρακάτω πειραματικά δεδομένα:

Για  $[S] = 0,2 \mu\text{mol/L}$  μετρήθηκε  $V = 0,1 \text{ unit}$ .

Δίνεται:  $V_{\text{max}} = 0,3 \text{ unit}$ .

Για το ένζυμο  $E_2$ , να υπολογίσετε την τιμή της  $K_{m2}$ .

(Μονάδες 4)

- γ)** Από τη σύγκριση των τιμών  $K_{m1}$  και  $K_{m2}$ , τι συμπέρασμα προκύπτει για τη συγγένεια των δύο ενζύμων ως προς το υπόστρωμα S;

(Μονάδες 4)

**Μονάδες 10**

**Δ2.** Όταν ένα πεπτίδιο υδρολύεται με ένζυμο A, προκύπτουν τα μικρότερα πεπτίδια:

Met – Ser – Cys

Phe – Pro – Tyr

His – Lys – Ala – Ala

Όταν το ίδιο πεπτίδιο υδρολύεται με ένζυμο B, προκύπτουν τα μικρότερα πεπτίδια:

Cys – His – Lys

Ala – Ala – Phe

Met – Ser

Pro – Tyr

**α)** Να κατασκευάσετε τον πεπτιδικό χάρτη των επικαλυπτόμενων θραυσμάτων (peptide map).

(Μονάδες 3)

**β)** Να προσδιορίσετε την πρωτοταγή δομή του πεπτιδίου.

(Μονάδες 2)

**Μονάδες 5**

**Δ3.** Από την υδρόλυση ενός τριπεπτιδίου παίρνουμε τα ακόλουθα αμινοξέα:

Ala, Gly, Val.

**α)** Να γραφούν όλες οι δυνατές πρωτοταγείς δομές του τριπεπτιδίου.

(Μονάδες 3)

**β)** Πόσοι πεπτιδικοί δεσμοί περιέχονται στο μόριο του;

(Μονάδα 1)

**γ)** Με ποιους τρόπους μπορούν να υδρολυθούν οι πεπτιδικοί δεσμοί σε μια πρωτεΐνη;

(Μονάδες 6)

**Μονάδες 10**